










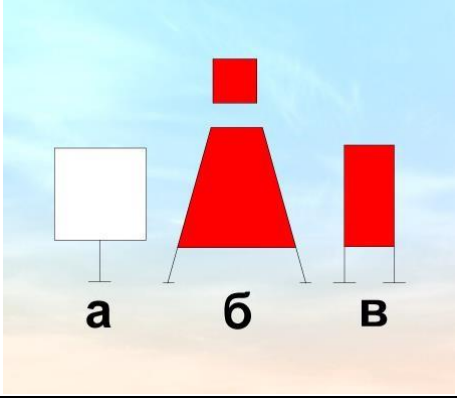

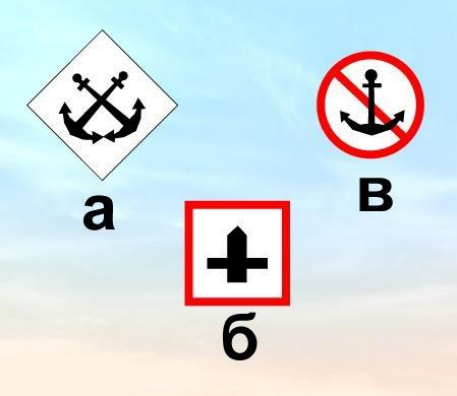
Правила плавания маломерных судов, включая правила плавания в портах




No	Вопрос	Иллюстрация	Варианты ответа (правильный выделен)
ВВП.1.2.2	Что обозначает изображенный на иллюстрации береговой навигационный информационный знак?		<ul style="list-style-type: none"> • Место пересечения судового хода • Участок, где запрещено создавать волнение • Участок, где необходимо соблюдать особую осторожность • !Участок, где на судовом ходу запрещено движение маломерных судов
ВВП.1.2.3	На что указывает изображенный на иллюстрации береговой навигационный знак?		<ul style="list-style-type: none"> • На направление судового хода • На фарватер для прохода крупных судов • На ось судового хода • !На положение судового хода и его кромок
ВВП.1.2.4	Что обозначает изображенный на иллюстрации береговой навигационный информационный знак?		<ul style="list-style-type: none"> • Перекресток судовых ходов • Место приближении к перекату • Ось судового хода • !Место пересечения судового хода судами и паромными переправами

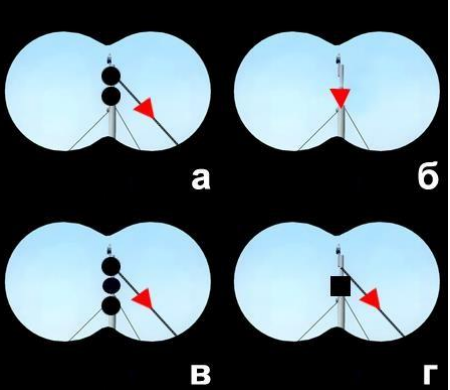


<p>ВВП.1.2.5</p>	<p>Что обозначает изображенный на иллюстрации береговой навигационный информационный знак?</p>		<ul style="list-style-type: none"> • Участок судоходного пути, на котором максимальная допустимая ширина судов 15 м • Участок судоходного пути, на котором максимальная допустимая высота надводного габарита судна 15 м • Участок судоходного пути, на котором глубина судового хода 15 м • !Участок судоходного пути, где скорость движения водоизмещающих судов ограничена 15 км/ч
<p>ВВП.1.2.12</p>	<p>Что обозначает изображенный на иллюстрации плавучий навигационный знак?</p>		<ul style="list-style-type: none"> • левую кромку судового хода • правую кромку судового хода • поворот судового хода и стоит на его правой кромке • !поворот судового хода и стоит на его левой кромке
<p>ВВП.1.2.13</p>	<p>Что обозначает изображенный на иллюстрации плавучий навигационный знак?</p>		<ul style="list-style-type: none"> • поворот судового хода • особо опасное место у левой кромки судового хода • особо опасное место у правой кромки судового хода • !ось судового хода




<p>ВВП.1.2.14</p>	<p>Что обозначает изображенный на иллюстрации плавучий навигационный знак?</p>		<ul style="list-style-type: none"> • ось судового хода • поворот судового хода • особо опасное место у левой кромки судового хода • !особо опасное место у правой кромки судового хода
<p>ВВП.1.2.15</p>	<p>Что обозначает изображенный на иллюстрации знак?</p>		<ul style="list-style-type: none"> • Судно на ходу • Судно, осуществляющее перевозку радиоактивных грузов • Судно, идущее под парусом и одновременно использующее силовую установку • !Судно, стоящее на якоре
<p>ВВП.1.2.16</p>	<p>Что обозначает изображенный на иллюстрации знак?</p>		<ul style="list-style-type: none"> • Судно, стоящее на мели • Судно, стоящее на якоре • Судно, идущее под парусом и одновременно использующее силовую установку • !Судно, осуществляющее перевозку опасных грузов




<p>ВВП.1.2.17</p>	<p>Что обозначают изображенные на иллюстрации знаки?</p>		<ul style="list-style-type: none"> • Лоцманское судно при исполнении своих обязанностей • Судно, занятое буксировкой с длиной буксира более 200 м • Судно, ограниченное в возможности маневрировать, на ходу • !Судно, лишенное возможности управляться
<p>ВВП.1.2.18</p>	<p>Что обозначает плавучий навигационный знак на ВВП, имеющий изображенную на иллюстрации расцветку?</p>		<ul style="list-style-type: none"> • Обозначает левую кромку судового хода • Обозначает правую кромку судового хода • Обозначает поворот судового хода и стоит на его левой кромке • !Обозначает поворот судового хода и стоит на его правой кромке
<p>ВВП.1.2.19</p>	<p>Что обозначает изображенный на иллюстрации знак?</p>		<ul style="list-style-type: none"> • Судно, стоящее на мели • Судно, стоящее на якоре • Судно, осуществляющее перевозку радиоактивных грузов • !Судно, идущее под парусом и одновременно использующее силовую установку



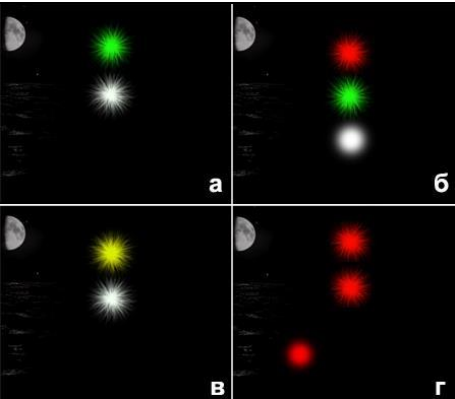
<p>ВВП.1.2.72</p>	<p>Какой из изображенных на иллюстрации береговых навигационных знаков обозначает направление судового хода?</p>		<ul style="list-style-type: none"> • Такого знака здесь нет • Только "а" • Только "б" и "в" • !"а", "б" и "в"
<p>ВВП.1.2.73</p>	<p>Какой из изображенных на иллюстрации береговых навигационных информационных знаков запрещает движение мелких плавучих средств?</p>		<ul style="list-style-type: none"> • "а", "в" и "б" • Такого знака здесь нет • "б" и "а" • !"а"
<p>ВВП.1.2.74</p>	<p>Какой из изображенных на иллюстрации береговых навигационных информационных знаков обозначает место базирования подразделения судоводной инспекции?</p>		<ul style="list-style-type: none"> • б • в • Такого знака здесь нет • !а




<p>ВВП.1.2.75</p>	<p>Где находится судно относительно оси судового хода, если судоводитель наблюдает задний знак осевого створа правее переднего?</p>		<ul style="list-style-type: none"> • На оси • Левее оси • Пересекает ось • !Правее оси
<p>ВВП.1.2.76</p>	<p>Где находится судно относительно оси судового хода, если судоводитель наблюдает задний знак осевого створа левее переднего?</p>		<ul style="list-style-type: none"> • На оси • На правой по ходу кромке судового хода • Правее оси • !Левее оси
<p>ВВП.1.2.77</p>	<p>Где находится судно относительно оси судового хода, если судоводитель наблюдает передний знак осевого створа левее заднего знака?</p>		<ul style="list-style-type: none"> • На оси • На левой по ходу полосе судового хода • Левее оси • !Правее оси

<p>ВВП.1.2.153</p>	<p>Какой из изображенных на иллюстрации сигналов днем должно нести самоходное судно с ядовитыми или взрывчатыми веществами на мели?</p>		<ul style="list-style-type: none"> • а) • б) • г) • !в)
<p>ВВП.1.2.154</p>	<p>Какое из перечисленных маломерных судов на ходу показывает белый круговой огонь при приближении к нему других судов?</p>		<ul style="list-style-type: none"> • Катер • Гидроцикл • Моторная лодка • !Шлюпки судов
<p>ВВП.1.2.155</p>	<p>Какой звуковой сигнал должно подавать одиночное самоходное судно на якоре или на мели при ограниченной (менее 1 км) видимости?</p>		<ul style="list-style-type: none"> • Один продолжительный и два коротких звука • Один короткий и один продолжительный звука • Три коротких звука • !Один короткий, один продолжительный и один короткий звуки


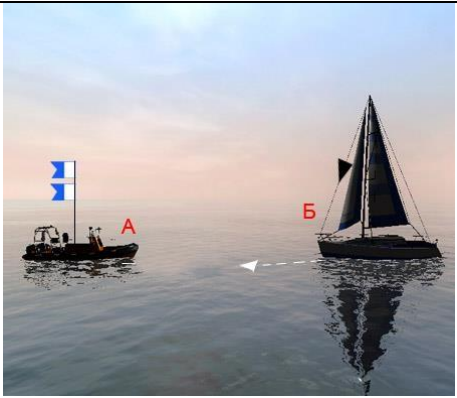
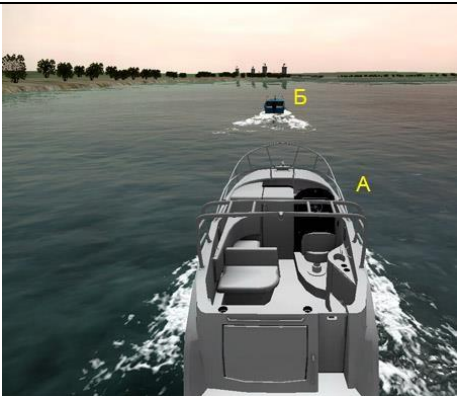
<p>ВВП.1.2.156</p>	<p>Через сколько метров должны обозначаться круговыми огнями (красными - у правого берега, белыми или желтыми, или зелеными - у левого берега) сети, поставленные в непосредственной близости от судового хода?</p>		<ul style="list-style-type: none"> • Через 20 м • Через 50 м • Через 200 м • !Через 100 м
<p>ВВП.1.2.157</p>	<p>Какое судно несет изображенные на иллюстрации огни?</p>		<ul style="list-style-type: none"> • Пассажирское водоизмещающее судно на переправе. Лежит в дрейфе • Пассажирское водоизмещающее судно на переправе. Стоит на якорю • Пассажирское водоизмещающее судно на переправе. Стоит у причала • !Паром канатной переправы
<p>ВВП.1.2.158</p>	<p>Какое судно несет изображенные на иллюстрации огни?</p>		<ul style="list-style-type: none"> • Самоходный • дноуглубительный снаряд на ходу с волочащимся грунтоподъемником • Таких огней для судов не предусмотрено • Дноочистительный снаряд, занятый подводными работами • !Рефулерный снаряд при отвале грунта к правому берегу

<p>ВВП.1.2.159</p>	<p>Какое судно несет изображенный на иллюстрации сигнал?</p>		<ul style="list-style-type: none"> • Паром канатной переправы на стоянке у берега • Дебаркадер на буксире • Судно, лишенное возможности управляться • !Самоходный дноуглубительный снаряд с волочащимся грунтоподъемником на ходу
<p>ВВП.1.2.160</p>	<p>Какое судно несет изображенный на иллюстрации сигнал?</p>		<ul style="list-style-type: none"> • Парусное судно на якоре • Дноуглубительный снаряд, работающий у правого берега • Рыболовное судно, занятое выборкой трала • !Судно с опасными грузами на якоре
<p>ВВП.1.2.161</p>	<p>Какое значение имеет звуковой сигнал из одного короткого звука?</p>		<ul style="list-style-type: none"> • "Я изменяю свой курс влево" • "Мои двигатели работают на задний ход" • "Я намереваюсь сделать оборот" • !"Я изменяю свой курс вправо"

<p>ВВП.1.2.162</p>	<p>Какое значение имеет звуковой сигнал из двух коротких звуков?</p>		<ul style="list-style-type: none"> • "Я изменяю свой курс вправо" • "Мои двигатели работают на задний ход" • "Я намереваюсь сделать оборот" • !"Я изменяю свой курс влево"
<p>ВВП.1.2.163</p>	<p>Какое значение имеет звуковой сигнал из трех коротких звука?</p>		<ul style="list-style-type: none"> • "Я изменяю свой курс влево" • "Я изменяю свой курс вправо" • "Я намерен сделать оборот" • !"Мои движители работают на задний ход"
<p>ВВП.1.2.164</p>	<p>Какие из изображенных на иллюстрации огней принадлежат судну, лишенному возможности управляться?</p>		<ul style="list-style-type: none"> • а • б • в • !г

<p>ВВП.1.2.165</p>	<p>Что обозначают изображенные на иллюстрации круговые огни, выставленные в непосредственной близости от судового хода?</p>		<ul style="list-style-type: none"> • Место работы водолазного судна у левой кромки судового хода • Местонахождение затонувшего судна у левой кромки судового хода • Рыболовные сети у правой кромки судового хода • !Рыболовные сети у левой кромки судового хода
<p>ВВП.1.2.166</p>	<p>Что обозначают изображенные на иллюстрации круговые огни, выставленные в непосредственной близости от судового хода?</p>		<ul style="list-style-type: none"> • Место работы водолазного судна у правой кромки судового хода • Местонахождение затонувшего судна у правой кромки судового хода • Рыболовные сети у левой кромки судового хода • !Рыболовные сети у правой кромки судового хода
<p>ВВП.1.2.167</p>	<p>Какой из звуковых сигналов в условиях ограниченной видимости подает одиночное судно на якоре?</p>		<ul style="list-style-type: none"> • "а" • "в" • "г" • !"б"

<p>ВВП.1.2.168</p>	<p>Какие из изображенных на иллюстрации огней принадлежат парому канатной переправы?</p>		<ul style="list-style-type: none"> • "б" • "в" • "г" • !"а"
<p>ВВП.1.2.184</p>	<p>Какое из маломерных судов не нарушило ППВВП?</p>		<ul style="list-style-type: none"> • "А" и "Б" • "А" и "Б" нарушили • "Б" • !"А"
<p>ВВП.1.2.185</p>	<p>Какое из маломерных судов нарушает ППВВП?</p>		<ul style="list-style-type: none"> • "Б" и "В" • Только "Б" • Только "В" • !"А" и "Б"

<p>ВВП.1.2.186</p>	<p>Как называется условная линия, ограничивающая судовую ход по ширине?</p>		<ul style="list-style-type: none"> • Изобата судового хода • Кромка полосы движения • Крайняя ось судового хода • !Кромка судового хода
<p>ВВП.1.2.187</p>	<p>Какое из судов имеет приоритет при расхождении в данной ситуации?</p>		<ul style="list-style-type: none"> • "А" и "Б" • "Б" • Ни "А", ни "Б" • !"А"
<p>ВВП.1.2.188</p>	<p>С какого борта катер "А" должен оставить при обгоне моторную лодку "Б", согласно требованиям ППВВП?</p>		<ul style="list-style-type: none"> • С любого • С левого при движении вниз • С левого при движении вверх • !С правого