





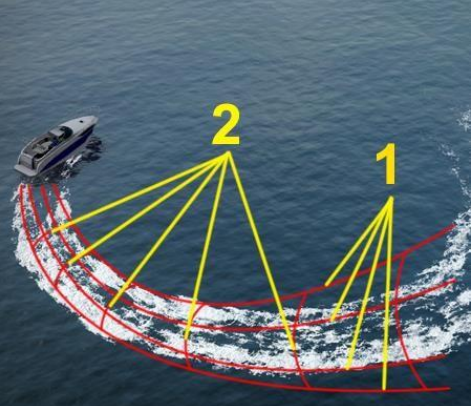
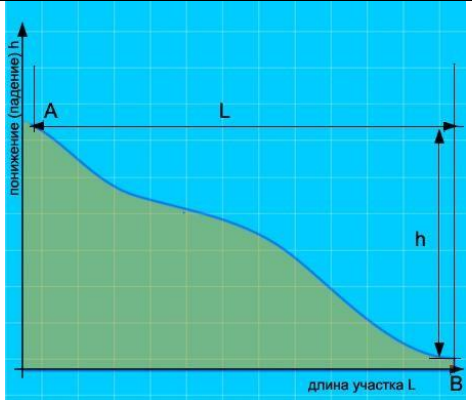



Основы навигации

ВВП.3.35	Как называется место начала реки?		<ul style="list-style-type: none">• Воложка• Протока• Стрежень• !Исток
ВВП.3.36	Под каким номером на рисунке обозначен урез воды?		<ul style="list-style-type: none">• !1• 2• 4• 3
ВВП.3.37	Как называется невысокий обрывистый, как правило, вогнутый берег?		<ul style="list-style-type: none">• Обрыв• Овраг• Пески• !Яр

<p>ВВП.3.38</p>	<p>Как называется крутой и короткий изгиб русла в пределах долины реки?</p>		<ul style="list-style-type: none"> • Извилина • Излучина • Лука • !Колено
<p>ВВП.3.39</p>	<p>Как называется длинный изгиб русла вместе с долиной реки?</p>		<ul style="list-style-type: none"> • Излучина • Колено • !Лука • Извилина
<p>ВВП.3.40</p>	<p>Как называется столкновение струй двух водных потоков (слияние рукавов)?</p>		<ul style="list-style-type: none"> • Взброс • Толчая • Прибой • !Спорные воды

<p>ВВП.3.41</p>	<p>Как называются судовые волны, обозначенные на рисунке под номерами "1" и "2"?</p>	 <p>The image shows a boat moving through the water, leaving a wake. Two sets of wave patterns are highlighted with yellow lines and labeled '1' and '2'. Pattern '1' consists of transverse waves, while pattern '2' consists of longitudinal waves.</p>	<ul style="list-style-type: none"> • Бортовые (1) и кормовые (2) • Носовые (1) и бортовые (2) • Продольные (1) и бортовые (2) • !Расходящиеся (1) и поперечные (2) кормовые
<p>ВВП.3.42</p>	<p>Какая зависимость между продольным уклоном поверхности воды и скоростью течения воды в реке?</p>	 <p>The graph plots 'понижение (падение) h' (drop) on the vertical axis against 'длина участка L' (length of section) on the horizontal axis. The curve shows that as the drop increases, the length of the section also increases, indicating a steeper slope.</p>	<ul style="list-style-type: none"> • Скорость течения возрастает с уменьшением продольного уклона • Скорость течения уменьшается с увеличением продольного уклона • Скорость течения не зависит от продольного уклона поверхности воды в реке • !Скорость течения возрастает с увеличением продольного уклона
<p>ВВП.3.43</p>	<p>Как называется течение, которое создается у берега на участках, где слив воды направлен к берегу, и вызывает раскат судов в сторону берега?</p>	 <p>The diagram shows a cross-section of a river or coastal area. Arrows indicate the flow of water towards the shore, illustrating a coastal current.</p>	<ul style="list-style-type: none"> • Затяжное • Раскатное • Свальное • !Прижимное

ВВП.3.44

Как называется вращательное движение воды в реке, возникающее, как правило, за выступами берегов, мысами, выпуклыми берегами, мостовыми опорами, дамбами?



- Майдан
- Водоворот
- Бурун
- **!Суводь**